

«ایستگاه شماره ۲»

۱- از میان وسایل موجود ارلن را شناسایی کنید؟ و کاربردهای آن را بنویسید؟

۲- طرز استفاده از آن را بصورت عملی نشان دهید؟



۳- علامت



نشانه چیست؟

«ایستگاه شماره ۲»

۱- از میان وسایل موجود قیف جداکننده (دکانتور) را شناسایی کنید؟

۲- کاربردهای آن را ذکر کنید؟



@oloom\_789

۳- علامت



نشانه چیست؟

«ایستگاه شماره ۲»

۱- از میان وسایل موجود بوتله‌ی چینی را شناسایی کنید؟ کاربردهای آن را بنویسید.

۲- کاربردهای آن را بنویسید؟




۳- علامت



نشانه چیست؟

«ایستگاه شماره ۲»

۱- از میان وسایل موجود بورت را شناسایی کنید؟ و طرز استفاده از آن را بصورت عملی نشان دهید؟

۲- کاربرد های آن را بنویسید؟ 


نشانه چیست؟



۳- علامت

«ایستگاه شماره ۲»

۱- از میان وسایل موجود بالن ته صاف را شناسایی کنید؟ و کاربرد های آن را بنویسید.

۲- کاربرد های آن را بنویسید؟ 

@oloom 789


نشانه چیست؟



۳- علامت

«ایستگاه شماره ۲»

۱- از میان وسایل موجود گیره ی حلقه ای را شناسایی کنید؟ و کاربرد های آن را بنویسید.

۲- طرز استفاده از آن را بصورت عملی نشان دهید؟ 

نشانه چیست؟



۳- علامت

### «ایستگاه شماره ۲»

۱- از میان وسایل موجود مبرد (سردکننده) را شناسایی کنید؟ و کاربردهای آن را بنویسید؟

۲- با استفاده از آن مقدار ۱۰ میلی لیتر آب را اندازه بگیرید؟



-۲

نشانه چیست؟



۳- علامت

### «ایستگاه شماره ۲»

۱- از میان وسایل موجود دمایا را شناسایی کنید؟ و طرز کار آن را بصورت عملی نشان دهید؟

@oloom\_789

کاربردهای آن را ذکر کنید؟



-۲

نشانه چیست؟



۳- علامت

### «ایستگاه شماره ۲»

۱- از میان وسایل پی پت پمپ را شناسایی کنید؟ و طریقه استفاده از آن را بصورت عملی نشان دهید؟

کاربردهای آن را ذکر کنید؟



-۲

نشانه چیست؟



۳- علامت

### «ایستگاه شماره ۲»

۱- از میان وسایل موجود چراغ گازی (بونزن) را شناسایی کنید؟ و چگونگی تنظیم شعله و شدت حرارت آن را بصورت عملی توضیح دهید؟

۲- کاربرد های آن را بنویسید؟



نشانه چیست؟



۳- علامت

### «ایستگاه شماره ۲»

۱- از میان وسایل موجود گیره کوره را شناسایی کنید؟ و کاربردهای آن را بنویسید؟

@oloom 789

۲- طرز کار با آن را بصورت عملی نشان دهید؟



نشانه چیست؟



۳- علامت

### «ایستگاه شماره ۲»

۱- از میان وسایل موجود بالن حجم سنجی (بالن ژوزه) را شناسایی کنید؟ و کاربردهای آن را بنویسید؟

۲- طرز استفاده از آن را بصورت عملی نشان دهید؟



نشانه چیست؟



۳- علامت

«ایستگاه شماره ۲»

۱- از میان وسایل موجود لوله‌ی آزمایش را شناسایی کنید؟ و کاربردهای آن را بنویسید؟

۲- طرز استفاده از آن را بصورت عملی نشان دهید؟



نشانه چیست؟



۳- علامت

«ایستگاه شماره ۲»

۱- از میان وسایل موجود بالن ته‌گرد را شناسایی کنید؟ و کاربردهای آن را بنویسید؟

۲- طرز استفاده از آن را بصورت عملی نشان دهید؟

@oloom\_789

نشانه چیست؟



۳- علامت

«ایستگاه شماره ۲»

۱- از میان وسایل موجود استوانه‌ی مدرج را شناسایی کنید؟ و کاربردهای آن را بنویسید؟

۲- طرز استفاده از آن را بصورت عملی نشان دهید؟




نشانه چیست؟



۳- علامت

«ایستگاه شماره ۲»

۱- از میان وسایل قیف را شناسایی کنید؟ و کاربردهای آن را بنویسید؟

۲-  طرز استفاده از آن را بصورت عملی نشان دهید؟

نشانه چیست؟



۳- علامت

«ایستگاه شماره ۲»

۱- از میان وسایل موجود توری نسوز را شناسایی کنید؟ و کاربردهای آن را بنویسید؟

۲-  طرز استفاده از آن را بصورت عملی نشان دهید؟


نشانه چیست؟



۳- علامت

«ایستگاه شماره ۲»

۱- از میان وسایل ارلن را شناسایی کنید؟ و کاربردهای آن را بنویسید؟

۲-  و کاربردهای آن را بنویسید؟

نشانه چیست؟



۳- علامت

«ایستگاه شماره ۲»

۱- از میان وسایل موجود بالن حجم‌سنجی (بالن ژوژه) را شناسایی کنید؟ و کاربردهای آن را بنویسید؟

۲- طرز استفاده از آن را بصورت عملی نشان دهید؟



-۲

نشانه چیست؟



۳- علامت

«ایستگاه شماره ۲»

۱- از میان وسایل موجود بشر را شناسایی کنید؟ و کاربردهای آن را بنویسید؟

۲- کاربردهای آن را نوشته و طرز استفاده از آن را بصورت عملی نشان دهید؟



-۲

نشانه چیست؟



۳- علامت

«ایستگاه شماره ۲»

۱- از میان وسایل موجود پی‌ت‌پمپ را شناسایی کنید؟ کاربردهای آن را نوشته و طریقه استفاده از آن را بصورت عملی نشان دهید؟

۲- طرز استفاده از آن را بصورت عملی نشان دهید؟



-۲

نشانه چیست؟



۳- علامت